

- 1** На координатной прямой точки  $A$ ,  $B$ ,  $C$  и  $D$  соответствуют числам  $0,0137$ ;  $0,103$ ;  $0,03$ ;  $0,021$ .




Какой точке соответствует число  $0,03$ ?

- 1)  $A$                       2)  $B$                       3)  $C$                       4)  $D$

Ответ:

- 2** На координатной прямой точки  $A$ ,  $B$ ,  $C$  и  $D$  соответствуют числам  $0,098$ ;  $-0,02$ ;  $0,09$ ;  $0,11$ .

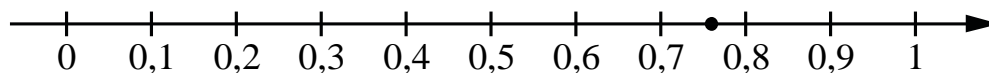


Какой точке соответствует число  $0,09$ ?

- 1)  $A$                       2)  $B$                       3)  $C$                       4)  $D$

Ответ:

- 3** Одно из чисел  $\frac{10}{17}$ ;  $\frac{11}{17}$ ;  $\frac{13}{17}$ ;  $\frac{14}{17}$  отмечено на прямой точкой.

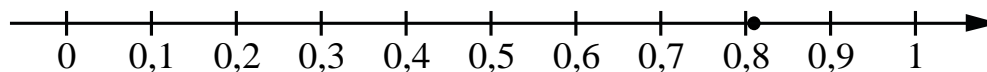


Какое это число?

- 1)  $\frac{10}{17}$                       2)  $\frac{11}{17}$                       3)  $\frac{13}{17}$                       4)  $\frac{14}{17}$

Ответ:

4 Одно из чисел  $\frac{4}{11}$ ;  $\frac{8}{11}$ ;  $\frac{9}{11}$ ;  $\frac{13}{11}$  отмечено на прямой точкой.



Какое это число?

- 1)  $\frac{4}{11}$                       2)  $\frac{8}{11}$                       3)  $\frac{9}{11}$                       4)  $\frac{13}{11}$

Ответ:

5 Какое из следующих чисел заключено между числами  $\frac{19}{8}$  и  $\frac{17}{7}$ ?

- 1) 2,3                      2) 2,4                      3) 2,5                      4) 2,6

Ответ:

6 Какое из следующих чисел заключено между числами  $\frac{5}{17}$  и  $\frac{7}{19}$ ?

- 1) 0,2                      2) 0,3                      3) 0,4                      4) 0,5

Ответ:

7 Какое из данных ниже чисел принадлежит отрезку  $[3; 4]$ ?

- 1)  $\frac{45}{19}$                       2)  $\frac{52}{19}$                       3)  $\frac{68}{19}$                       4)  $\frac{77}{19}$


Ответ:

**8** Какое из данных ниже чисел принадлежит отрезку  $[8; 9]$ ?

- 1)  $\frac{46}{7}$                       2)  $\frac{53}{7}$                       3)  $\frac{55}{7}$                       4)  $\frac{61}{7}$

Ответ:

**9** На координатной прямой точки  $A$ ,  $B$ ,  $C$  и  $D$  соответствуют числам  $0,271$ ;  $-0,112$ ;  $0,041$ ;  $-0,267$ .



Какой точке соответствует число  $0,271$ ?

- 1)  $A$                       2)  $B$                       3)  $C$                       4)  $D$

Ответ:

**10** На координатной прямой точки  $A$ ,  $B$ ,  $C$  и  $D$  соответствуют числам  $0,29$ ;  $-0,02$ ;  $0,109$ ;  $0,013$ .



Какой точке соответствует число  $0,109$ ?

- 1)  $A$                       2)  $B$                       3)  $C$                       4)  $D$

Ответ: