



1 На клетчатой бумаге с размером клетки 1×1 изображена фигура. Найдите её площадь.



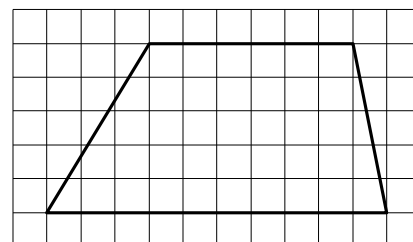
Ответ: _____.

2 На клетчатой бумаге с размером клетки 1×1 изображена фигура. Найдите её площадь.



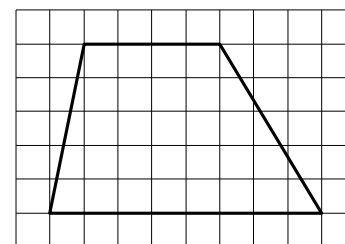
Ответ: _____.

3 На клетчатой бумаге с размером клетки 1×1 изображена трапеция. Найдите длину её средней линии.



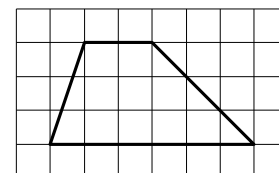
Ответ: _____.

4 На клетчатой бумаге с размером клетки 1×1 изображена трапеция. Найдите длину её средней линии.



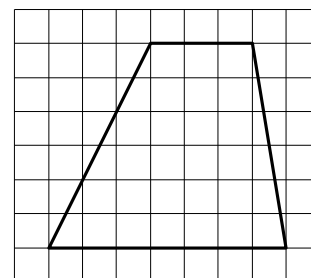
Ответ: _____.

5 На клетчатой бумаге с размером клетки 1×1 изображена трапеция. Найдите её площадь.



Ответ: _____.

- 6 На клетчатой бумаге с размером клетки 1×1 изображена трапеция. Найдите её площадь.



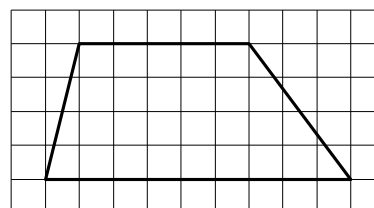
Ответ: _____.

- 7 На клетчатой бумаге с размером клетки 1×1 изображена трапеция. Найдите её площадь.



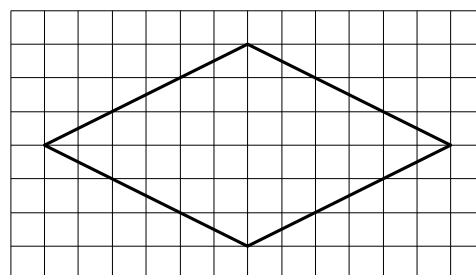
Ответ: _____.

- 8 На клетчатой бумаге с размером клетки 1×1 изображена трапеция. Найдите её площадь.



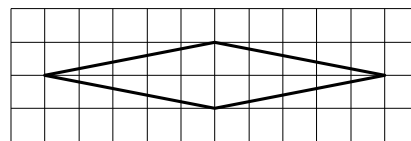
Ответ: _____.

- 9 На клетчатой бумаге с размером клетки 1×1 изображён ромб. Найдите площадь этого ромба.



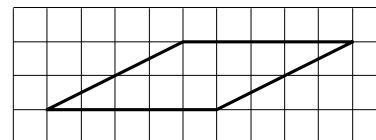
Ответ: _____.

- 10** На клетчатой бумаге с размером клетки 1×1 изображён ромб. Найдите площадь этого ромба.



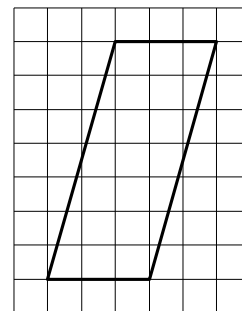
Ответ: _____.

- 11** На клетчатой бумаге с размером клетки 1×1 изображён параллелограмм. Найдите его площадь.



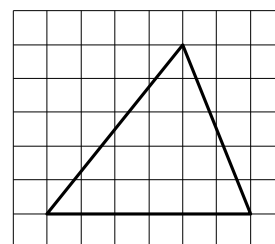
Ответ: _____.

- 12** На клетчатой бумаге с размером клетки 1×1 изображён параллелограмм. Найдите его площадь.



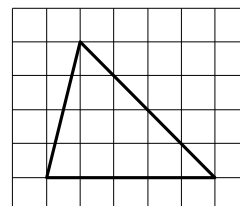
Ответ: _____.

- 13** На клетчатой бумаге с размером клетки 1×1 изображён треугольник. Найдите его площадь.



Ответ: _____.

- 14** На клетчатой бумаге с размером клетки 1×1 изображён треугольник. Найдите его площадь.



Ответ: _____.