



- 1 На клетчатой бумаге с размером клетки  $1 \times 1$  изображена фигура. Найдите её площадь.



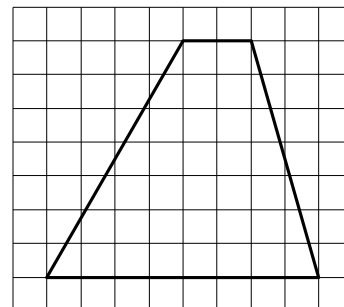
Ответ: \_\_\_\_\_.

- 2 На клетчатой бумаге с размером клетки  $1 \times 1$  изображена фигура. Найдите её площадь.



Ответ: \_\_\_\_\_.

- 3 На клетчатой бумаге с размером клетки  $1 \times 1$  изображена трапеция. Найдите длину её средней линии.



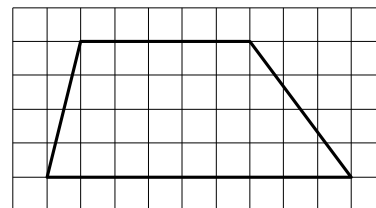
Ответ: \_\_\_\_\_.

- 4 На клетчатой бумаге с размером клетки  $1 \times 1$  изображена трапеция. Найдите длину её средней линии.



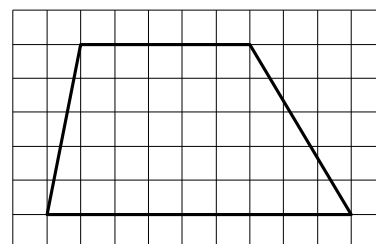
Ответ: \_\_\_\_\_.

- 5 На клетчатой бумаге с размером клетки  $1 \times 1$  изображена трапеция. Найдите её площадь.



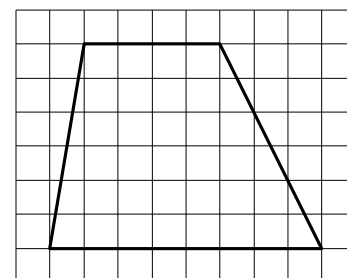
Ответ: \_\_\_\_\_.

- 6 На клетчатой бумаге с размером клетки  $1 \times 1$  изображена трапеция. Найдите её площадь.



Ответ: \_\_\_\_\_.

- 7 На клетчатой бумаге с размером клетки  $1 \times 1$  изображена трапеция. Найдите её площадь.



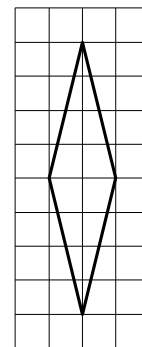
Ответ: \_\_\_\_\_.

- 8 На клетчатой бумаге с размером клетки  $1 \times 1$  изображена трапеция. Найдите её площадь.



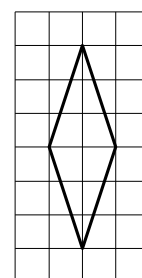
Ответ: \_\_\_\_\_.

- 9** На клетчатой бумаге с размером клетки  $1 \times 1$  изображён ромб. Найдите площадь этого ромба.



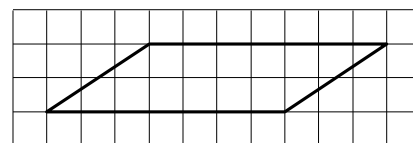
Ответ: \_\_\_\_\_.

- 10** На клетчатой бумаге с размером клетки  $1 \times 1$  изображён ромб. Найдите площадь этого ромба.



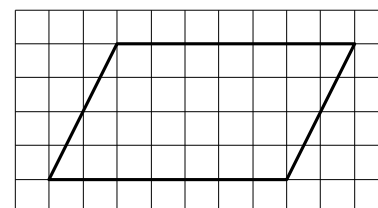
Ответ: \_\_\_\_\_.

- 11** На клетчатой бумаге с размером клетки  $1 \times 1$  изображён параллелограмм. Найдите его площадь.



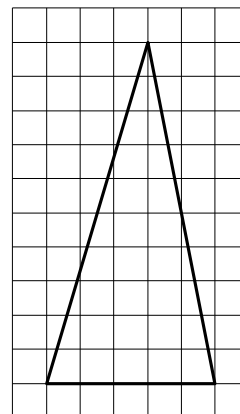
Ответ: \_\_\_\_\_.

- 12** На клетчатой бумаге с размером клетки  $1 \times 1$  изображён параллелограмм. Найдите его площадь.



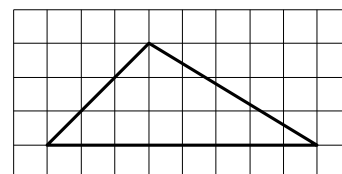
Ответ: \_\_\_\_\_.

- 13** На клетчатой бумаге с размером клетки  $1 \times 1$  изображён треугольник. Найдите его площадь.



Ответ: \_\_\_\_\_.

- 14** На клетчатой бумаге с размером клетки  $1 \times 1$  изображён треугольник. Найдите его площадь.



Ответ: \_\_\_\_\_.