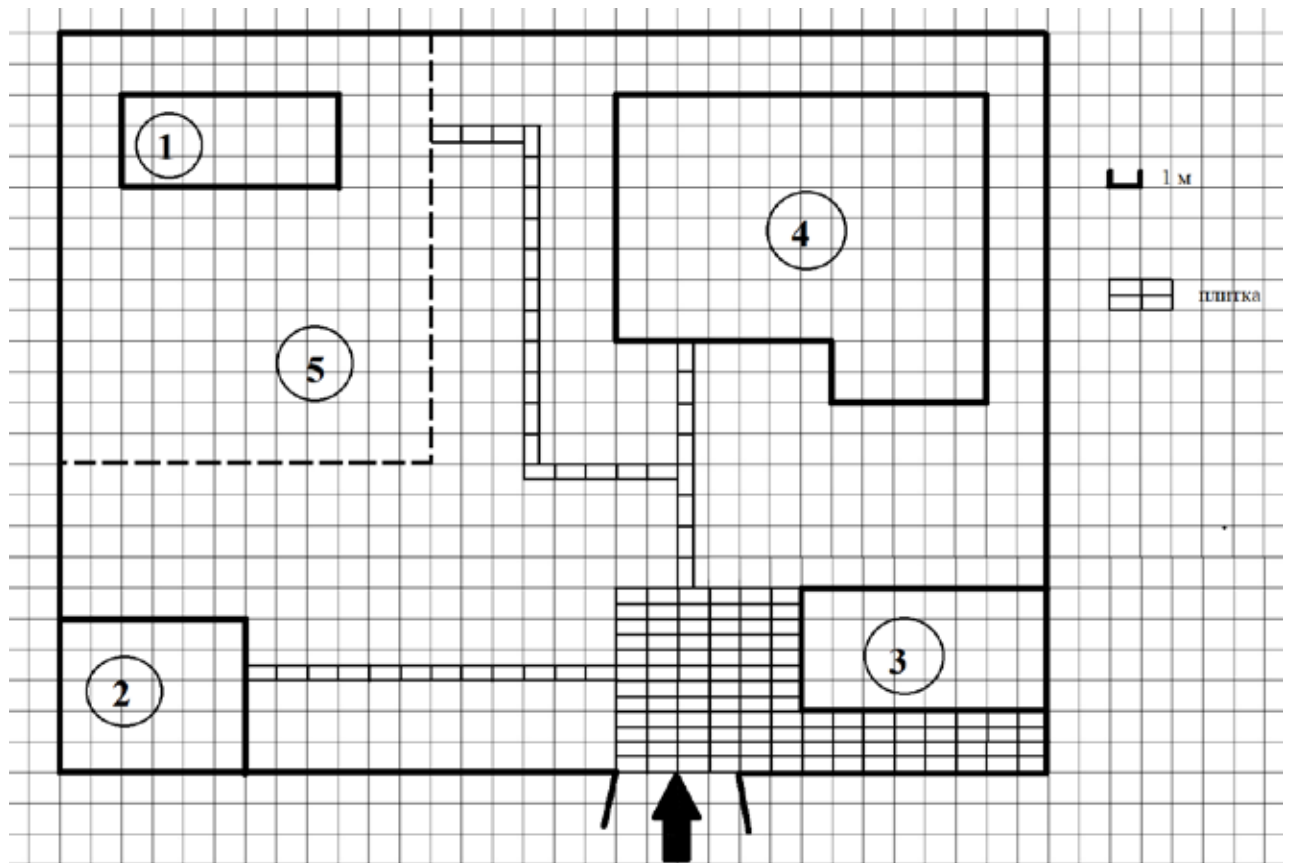


Прочитайте внимательно текст и выполните задания 1–5.



На плане изображено домохозяйство по адресу с. Сосновое, 2-й Зелёный пер, д. 9 (сторона каждой клетки на плане равна 1 м). Участок имеет прямоугольную форму. Выезд и въезд осуществляются через единственные ворота.

При входе на участок слева от ворот находится сарай, а справа — гараж. Площадь, занятая гаражом, равна 32 кв. м. Жилой дом находится в глубине территории. Помимо гаража, жилого дома и сарая, на участке имеется теплица, расположенная на территории огорода (огород отмечен на плане цифрой 5). Все дорожки внутри участка имеют ширину 0,5 м и вымощены тротуарной плиткой размером 1 м ´ 0,5 м. Перед гаражом имеется площадка, вымощенная той же плиткой.

1 Для объектов, указанных в таблице, определите, какими цифрами они обозначены на плане. Заполните таблицу, в бланк перенесите последовательность четырёх цифр.

Объекты	теплица	сарай	жилой дом	гараж
Цифры				

2 Тротуарная плитка продаётся в упаковках по 5 штук. Сколько упаковок плитки понадобилось, чтобы выложить все дорожки и площадку перед гаражом?

Ответ: _____.

3 Найдите расстояние от сарая до жилого дома (под расстоянием между двумя объектами следует понимать расстояние между их ближайшими точками). Ответ дайте в метрах.

Ответ: _____.

4 Найдите площадь, которую занимает жилой дом. Ответ дайте в квадратных метрах.

Ответ: _____.

5 Хозяин участка хочет сделать пристройку к дому. Для этого он планирует купить 12 тонн силикатного кирпича. Один кирпич весит 3 кг. Цена кирпича и условия доставки всей покупки приведены в таблице.

Поставщик	Цена кирпича (руб. за шт.)	Стоимость доставки до 15 тонн (руб.)	Специальные условия
А	11,56	7000	Доставка бесплатно, если сумма заказа превышает 50 000 руб.
Б	13,48	6000	Доставка со скидкой 50 %, если сумма заказа превышает 55 000 руб.

Во сколько рублей обойдётся наиболее дешёвый вариант?

Ответ: _____.

Прочитайте внимательно текст и выполните задания 6–10.

Каждый водитель в Российской Федерации должен быть застрахован по программе обязательного страхования гражданской ответственности (ОСАГО). Стоимость полиса получается умножением базового тарифа на несколько коэффициентов. Коэффициенты зависят от водительского стажа, мощности автомобиля, количества предыдущих страховых выплат и других факторов.

Коэффициент бонус-малус (**КБМ**) зависит от класса водителя. Это коэффициент, понижающий или повышающий стоимость полиса в зависимости от количества ДТП в предыдущий год. Сначала водителю присваивается класс 3. Срок действия полиса, как правило, один год. Каждый последующий год класс водителя рассчитывается в зависимости от числа страховых выплат в течение истекшего года в соответствии со следующей таблицей.

Класс на начало годового срока страхования	Коэффициент КБМ	Класс по окончании годового срока страхования с учётом наличия страховых случаев				
		0 страховых выплат	1 страховая выплата	2 страховых выплаты	3 страховых выплаты	4 страховых выплаты
М	2,45	0	М	М	М	М
0	2,3	1	М	М	М	М
1	1,55	2	М	М	М	М
2	1,4	3	1	М	М	М
3	1	4	1	М	М	М
4	0,95	5	2	1	М	М
5	0,9	6	3	1	М	М
6	0,85	7	4	2	М	М
7	0,8	8	4	2	М	М
8	0,75	9	5	2	М	М
9	0,7	10	5	2	1	М
10	0,65	11	6	3	1	М
11	0,6	12	6	3	1	М
12	0,55	13	6	3	1	М
13	0,5	13	7	3	1	М

6

Максим страховал свою гражданскую ответственность два года. В течение второго года была сделана одна страховая выплата, но ранее выплат не было. Какой класс будет присвоен Максиму на начало третьего года страхования?

Ответ: _____.

7 Чему равен КБМ на начало третьего года страхования?

Ответ: _____.

8 Коэффициент возраста и водительского стажа (**КВС**) также влияет на стоимость полиса (см. таблицу).

Стаж, лет \ Возраст, лет	0	1	2	3–4	5–6	7–9	10–14	более 14
16–21	1,87	1,87	1,87	1,66	1,66			
22–24	1,77	1,77	1,77	1,04	1,04	1,04		
25–29	1,77	1,69	1,63	1,04	1,04	1,04	1,01	
30–34	1,63	1,63	1,63	1,04	1,04	1,01	0,96	0,96
35–39	1,63	1,63	1,63	0,99	0,96	0,96	0,96	0,96
40–49	1,63	1,63	1,63	0,96	0,96	0,96	0,96	0,96
50–59	1,63	1,63	1,63	0,96	0,96	0,96	0,96	0,96
старше 59	1,60	1,60	1,60	0,93	0,93	0,93	0,93	0,93

Когда Максим получил водительские права и впервые оформил полис, ему было 25 лет.

Чему равен КВС на начало 3-го года страхования?

Ответ: _____.

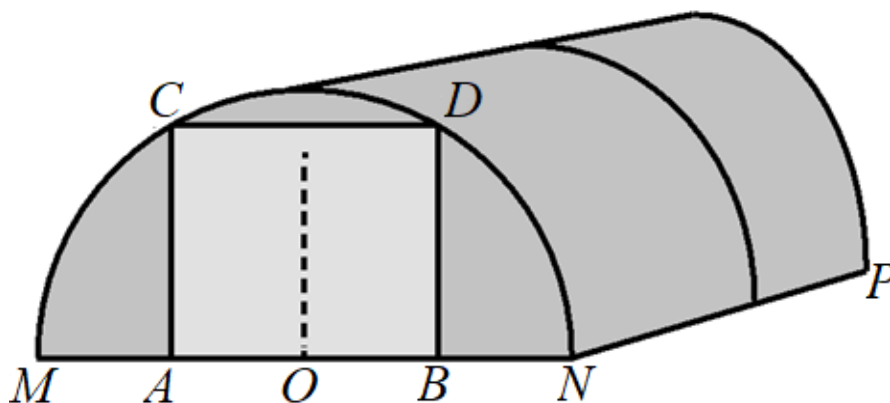
9 В начале второго года страхования Максим заплатил за полис 16 055 руб. Во сколько рублей обойдётся Максиму полис на третий год, если значения других коэффициентов (кроме КБМ и КВС) не изменятся?

Ответ: _____.

- 10** Максим въехал на участок дороги протяжённостью 3,4 км с камерами, отслеживающими среднюю скорость движения. Ограничение скорости на дороге – 80 км/ч. В начале и в конце участка установлены камеры, фиксирующие номер автомобиля и время проезда. По этим данным компьютер вычисляет среднюю скорость на участке. Максим въехал на участок в 10:05:23, а покинул его в 10:07:39. Нарушил ли Максим скоростной режим? Если да, на сколько км/ч средняя скорость на данном участке была выше разрешённой?

Ответ: _____.

Прочитайте внимательно текст и выполните задания 11–15.



Алексей Юрьевич решил построить на дачном участке теплицу длиной $NP = 6$ м. Для этого он сделал прямоугольный фундамент. Для каркаса теплицы Алексей Юрьевич заказывает металлические дуги в форме полуокружностей длиной 5,5 м каждая и плёнку для обтяжки. В передней стенке планируется вход, показанный на рисунке прямоугольником $ACDB$. Точки A и B — середины отрезков MO и ON соответственно.

- 11** Какое наименьшее количество дуг нужно заказать, чтобы расстояние между соседними дугами было не более 55 см?

Ответ: _____.

- 12** Найдите примерную ширину MN теплицы в метрах. Число ρ возьмите равным 3,14. Результат округлите до десятых.

Ответ: _____.

- 13** Найдите примерную площадь участка внутри теплицы в квадратных метрах. Ответ округлите до целых.

Ответ: _____.

- 14** Сколько квадратных метров плёнки нужно купить для теплицы с учётом передней и задней стенок, включая дверь? Для крепежа плёнку нужно покупать с запасом 10 %. Число ρ возьмите равным 3,14. Ответ округлите до целых.

Ответ: _____.

- 15** Найдите примерную высоту входа в теплицу в метрах. Число ρ возьмите равным 3,14. Ответ округлите до десятых.

Ответ: _____.

Прочитайте внимательно текст и выполните задания 16–20.

Хозяин дачного участка строит баню с парным отделением. Размеры парного отделения: длина — 4 м, ширина — 2,4 м, высота — 2 м. Для разогрева парного помещения можно использовать электрическую или дровяную печь. Три возможных варианта даны в таблице.

Печь	Тип	Отапливаемый объём, куб. м	Масса, кг	Цена, руб.
А	дровяная	10–15	45	21 300
Б	дровяная	14–21	51	24 100
В	электрическая	13–20	17	18 500

Для установки дровяной печи дополнительных затрат не потребуется. Установка электрической печи потребует подведения специального кабеля, что обойдётся в 6600 руб. Кроме того, хозяин подсчитал, что за год электрическая печь израсходует 2500 киловатт-часов электроэнергии по 3,5 руб. за 1 киловатт-час, а дровяная печь за год израсходует 1,8 куб. м дров, которые обойдутся по 1600 руб. за 1 куб. м.

- 16** Найдите объём парного отделения строящейся бани (в куб. м).

Ответ: _____.

17 На сколько рублей дровяная печь, подходящая по отопляемому объёму парного отделения, обойдётся дешевле электрической с учётом установки?

Ответ: _____.

18 На сколько рублей эксплуатация дровяной печи обойдётся дешевле эксплуатации электрической в течение года?

Ответ: _____.

19 Доставка печи из магазина до участка стоит 600 рублей. При покупке печи ценой выше 20 000 рублей магазин предлагает скидку 5 % на товар и 30 % на доставку. Сколько будет стоить покупка печи Б вместе с доставкой на этих условиях?

Ответ: _____.

20 Хозяин выбрал дровяную печь. Чертёж печи показан на рис. 1.

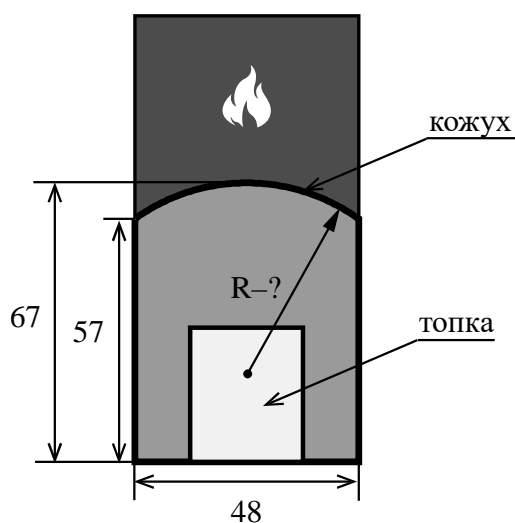


Рис. 1

Печь снабжена кожухом вокруг дверцы топки. Верхняя часть кожуха выполнена в виде арки, приваренной к передней стенке по дуге окружности (см. рис. 1). Для установки печки хозяину понадобилось узнать радиус закругления арки R . Размеры кожуха в сантиметрах показаны на рисунке. Найдите радиус в сантиметрах.

Ответ: _____.